






Wie viele Beine haben die Tiere?


	<input type="text"/> · <input type="text"/> = <input type="text"/>
	<input type="text"/> · <input type="text"/> = <input type="text"/>
	<input type="text"/> · <input type="text"/> = <input type="text"/>

sechs 

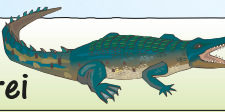
· =

neun 


· =

sechs 


· =

drei 

· =

vier 

· =

sieben 

· =

3 Wochen · =

5 Wochen · =

Wie viele Tage sind es?



2 Wochen und 6 Tage	<input type="text"/> · <input type="text"/> + <input type="text"/> = <input type="text"/>
4 Wochen und 2 Tage	<input type="text"/> · <input type="text"/> + <input type="text"/> = <input type="text"/>
3 Wochen und 4 Tage	<input type="text"/> · <input type="text"/> + <input type="text"/> = <input type="text"/>
9 Wochen und 1 Tag	<input type="text"/> · <input type="text"/> + <input type="text"/> = <input type="text"/>
5 Wochen und 5 Tage	<input type="text"/> · <input type="text"/> + <input type="text"/> = <input type="text"/>