


Einführung der Zehnerzahlen

Wir laden den Einerwagen leer.

1 Wir laden den Einerwagen **leer**.



Züge mit **leerem** Einerwagen sind **Zehnerzüge**.

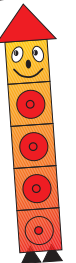


2



Zähle in **Zehnerschritten**, wie viele Kisten die Zehnerzüge geladen haben!

$4 \text{ Z } 0 \text{ E}$		Es sind 10, 20, 30, 40 Kisten.
$\square \text{ Z } \square \text{ E}$		
$\square \text{ Z } \square \text{ E}$		
$\square \text{ Z } \square \text{ E}$		
$\square \text{ Z } \square \text{ E}$		
$\square \text{ Z } \square \text{ E}$		
$\square \text{ Z } \square \text{ E}$		




3

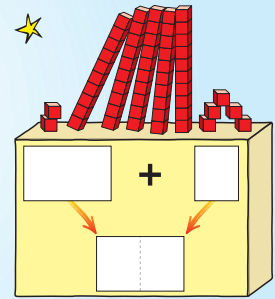
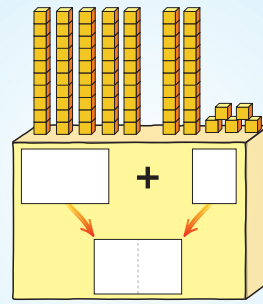
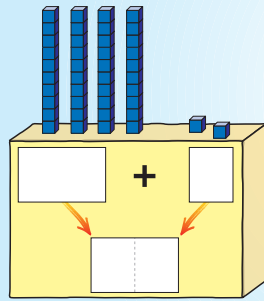
Zähle in Zehnerschritten!

	<input type="text"/>
	<input type="text"/>
	<input type="text"/>
	<input type="text"/>

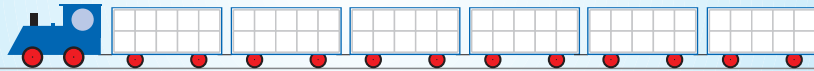
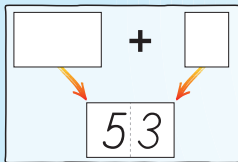
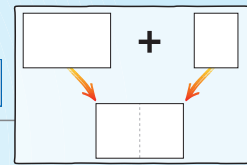
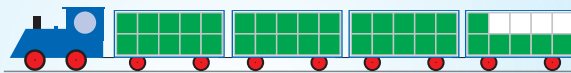
Rechenkönig ZE-Zahlen



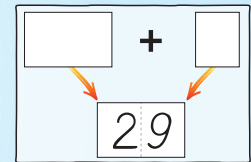
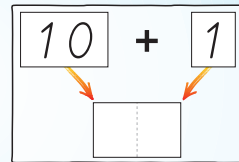
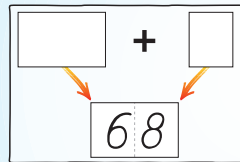
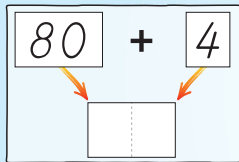
1



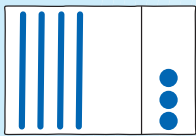
2




3



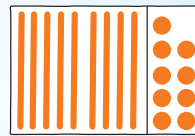
4



$$\square + \square = \square$$



$$30 + 2 = \square$$



$$\square + \square = \square$$



$$50 + 4 = \square$$

5

+3	
10	
60	
40	
80	

$$60 + 4 = \square$$

$$90 + 5 = \square$$

$$70 + 3 = \square$$

$$20 + 8 = \square$$

$$50 + \square = 53$$

$$\square + 6 = 86$$


$$40 + \square = 42$$

$$\square + 9 = 19$$

+6	
40	
60	
70	
	96

6

+	4	9	1
40			
10			
80			



+	2	8	
20			24
80			
60			

1



Sachrechnen mit Geldmünzen und Geldscheinen

Nina kauft:

€ - € = €

Kathrin kauft:

€ + € = €

Anika kauft:

€ + € = €

Ich kaufe mir den Affen und das Fahrrad.

€ + € = €

Ich kaufe mir die Tischtennisschläger, den Hubschrauber und den Fön.

€ + € + € = €

Lisa hat

Sie kauft das Polizeiauto.

€ - € = €

Sie hat noch €.

Tim hat

Er kauft den Traktor und den Bagger.

€ + € = €

Er hat noch €.

2 Aufgabe: Tom hat

Oma schenkt ihm

Frage: Wie viel Geld hat er jetzt?

Rechnung: € + € = €

Antwort: Tom hat jetzt €.

3 Aufgabe: Anne hat

Sie kauft ein Geschenk. Hinterher hat sie noch 40 €.

Frage: Wie teuer ist das Geschenk?

Rechnung: € - € = €

Antwort: Das Geschenk kostet €.

1

+20	
34	
68	
72	
56	

-3	
95	
18	
74	
87	

-30	
62	
48	
71	
99	

+6	
12	
82	
	77
43	



Übungen

+ volle
 - Zehner
 + Einer
 -

2

$83 + 6 = \square$

$74 + 5 = \square$

$38 + 30 = \square$

$83 + 10 = \square$

$74 + 20 = \square$

$38 - 4 = \square$

$83 - 30 = \square$

$74 - 3 = \square$

$38 - 20 = \square$

$83 - 3 = \square$

$74 + 2 = \square$

$38 + 2 = \square$

$83 + 4 = \square$

$74 - 30 = \square$

$38 + 50 = \square$




3

+	3	6	4	2
24				
93				

-	10	30	20	70	50
78					
93					

-	6	10	3	30
36				
98				



+	30	5	20	2	40
53					
15					

4

$23 \bigcirc \square = 27$

$34 \bigcirc \square = 36$

$56 \bigcirc \square = 59$

$86 \bigcirc \square = 56$

$51 \bigcirc \square = 11$

$64 \bigcirc \square = 94$

$48 \bigcirc \square = 42$

$28 \bigcirc \square = 78$

$73 \bigcirc \square = 33$

$49 \bigcirc \square = 89$

$88 \bigcirc \square = 81$

$55 \bigcirc \square = 51$

$36 \bigcirc \square = 38$

$74 \bigcirc \square = 54$

$49 \bigcirc \square = 99$

